





¿Cuál es cuál?


En el bazar había unos sikus.



Corten una tira de papel del largo de esta página. Úsenla para descubrir cuál es cada cañita.



- Los sikus se cayeron, se desarmaron y se mezclaron. Ayuden a don Orlando a rearmarlos. En cada cañita escriban el número o la letra que le corresponda.



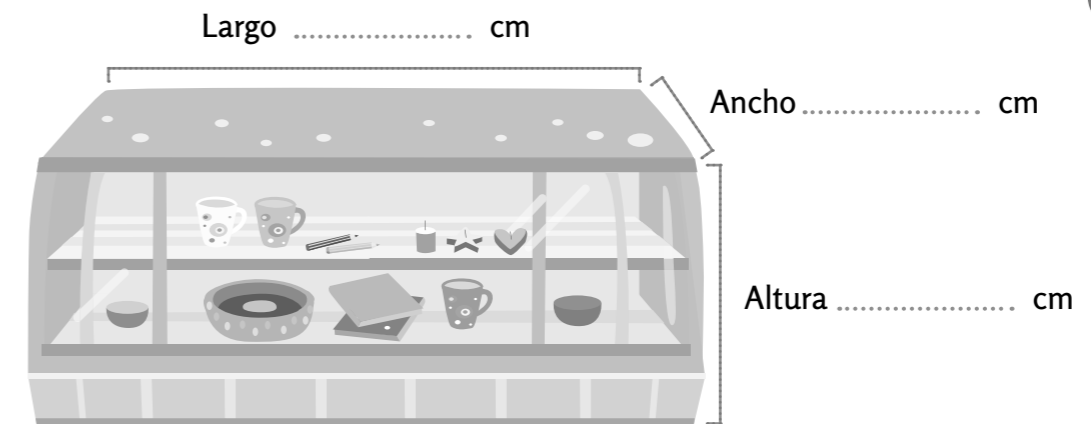

- Tomen las medidas necesarias para dibujar, en el cuaderno, los pedacitos de caña que faltan.

Metros y centímetros

Don Orlando tomó medidas para decorar el local.

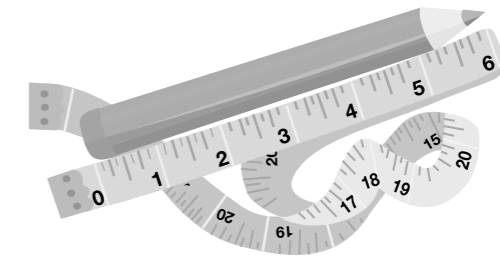
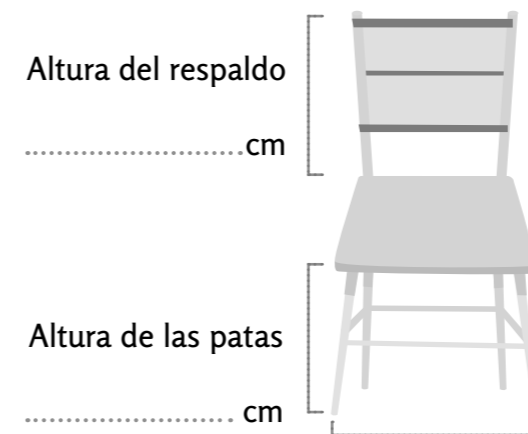


- Busquen un centímetro o una cinta métrica y respondan.
 - El mostrador tiene el ancho del pizarrón y es tan alto y largo como un escritorio de la escuela. Midan y completen.



- Las sillas son iguales a las que tienen ustedes en el aula. Completen.

Recuerden ubicar el **cero** en uno de los extremos del objeto que quieren medir. Este lápiz mide 6 cm de largo.



Distancia entre las patas cm

100 cm = 1 metro

- Midan y luego dibujen en el cuaderno otros objetos del aula.